






# LES ENIGMES 5-7 ANS

Calcul - Logique - Dessin

Les Editions  
ROSACE

# LES 3 DÉS


*Théo lance 3 dés et obtient un total de 8. Sur les dés il n'y a ni 2, ni 3. Dessine les trois dés*



# LE SUDOKU DES FORMES


Sur chaque ligne et chaque colonne, tu dois trouver un  
coeur, une étoile et une lune.

Dessine-les dans les bonnes cases.



# LAPINS ET POULES

Dans cette ferme, il n'y a que des poules et des lapins.  
Théo compte au total 20 pattes et 6 têtes.  
Combien y-a-t'il de lapins et de poules?  
Tu peux dessiner ou calculer dans ce carré.



# LE CARRÉ MAGIQUE

Complète le carré magique. Si tu additionnes les nombres d'une même ligne ou d'une même colonne tu dois obtenir 15.

		<b>6</b>	<b>15</b>
	<b>5</b>		<b>15</b>
<b>4</b>		<b>8</b>	<b>15</b>

<b>15</b>	<b>15</b>	<b>15</b>
-----------	-----------	-----------

# QUI EST-CE?

Tu dois retrouver le personnage qui correspond à la description:

Je ne porte pas de lunettes.

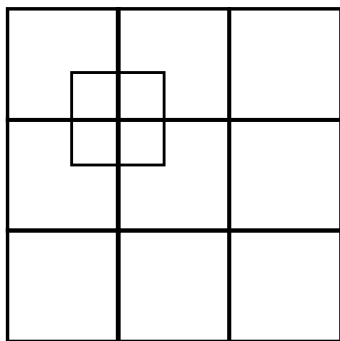
Je n'ai pas d'étoile sur mon tee-shirt.

Je suis un garçon et mon tee-shirt a trois rayures.



# LES CARRÉS

*Combien comptes-tu de carrés?*



**Nombre de carrés:**

**Il y a ..... carrés.**

# LA TABLE

Moussa a invité pour son anniversaire 5 enfants:

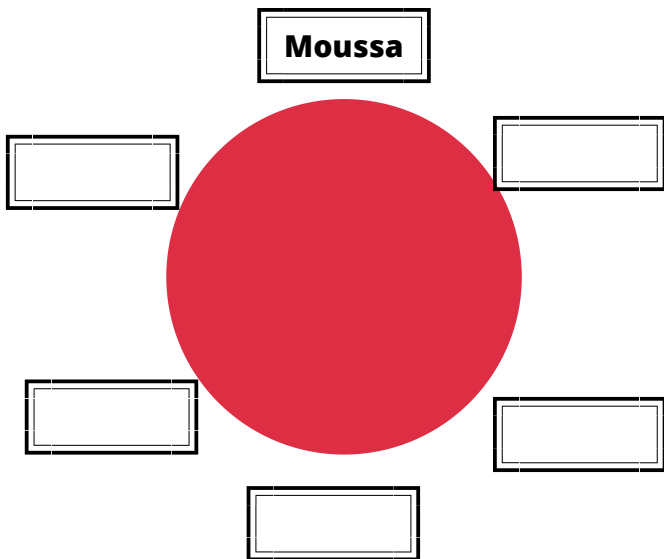
Julie, Jean, Tom, Maëva et Tom

Julie est entre Moussa et Jean.

Tom est à la gauche de Moussa.

Maëva n'est pas en face de Moussa.

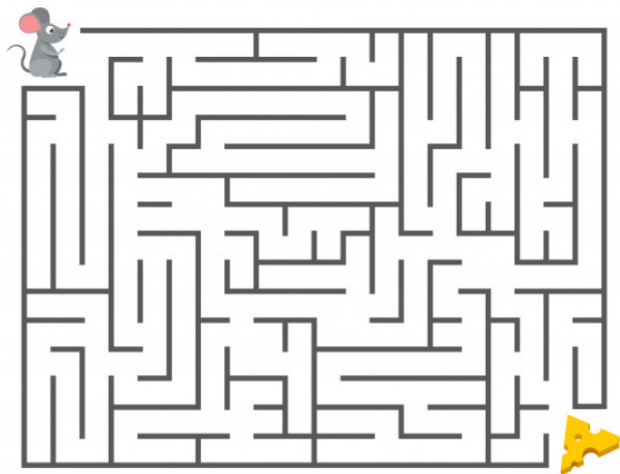
Ecris le nom de leur place sur cette table.





# LES LABYRINTHES

Trouve les chemins de ces deux labyrinthes.



# LES RÉPONSES

*Pour obtenir les réponses, il faut flasher le Qr Code ci-dessous.*



*Tu peux laisser un commentaire  
pour nous dire si tu as tout réussi.*

les Editions  
ROSACE